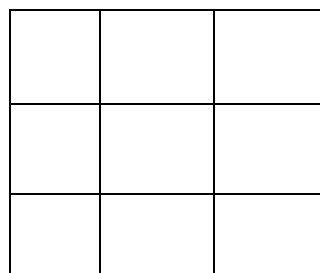
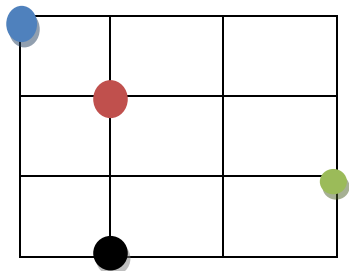
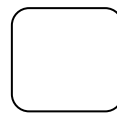
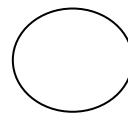
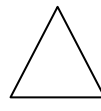

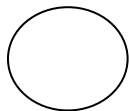

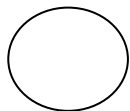
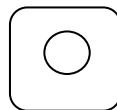
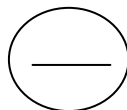


МАТЕМАТИКА



Нарисуй справа такой же рисунок, как слева



Нарисуй в каждой фигуре то, что показано на рисунке.



КАКОЙ ПРЕДМЕТ ЛИШНИЙ? ПОЧЕМУ?



ОБВЕДИ НА РИСУНКЕ ПАРНЫЕ ПРЕДМЕТЫ.
НАЗОВИ ИХ.



РАСКРАСЬ ВСЕ ЦИФРЫ 7 В КРАСНЫЙ ЦВЕТ. А
ЦИФРЫ 6 В СИНИЙ. КАКИХ ЦИФР
БОЛЬШЕ?

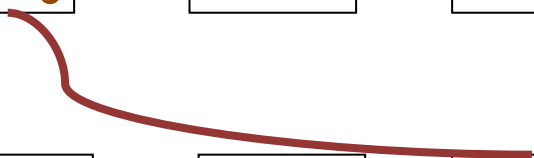

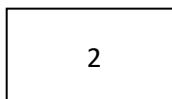

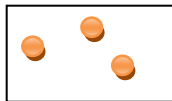
7 1 6 2

7 6 3 7 4


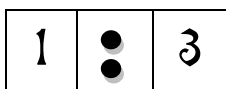
СКОЛЬКО НА РИСУНКЕ ЦВЕТКОВ?



ЗАКРОЙ КОРОБКИ С СЕМЕНАМИ ПОДХОДЯЩИМИ КРЫШКАМИ



В ПУСТЫЕ КЛЕТКИ ПОСТАВЬ ТОЧКИ ВМЕСТО ПОТЕРЯВШИХСЯ ЦИФР



СОБЕРИ ПАЗЛІ ПО ЦИФРАМ







1
2
3
4
5
6
7
8
9
10

ЗАЧЕРКНИ НА КАЖДОЙ СТОРОНЕ СТОЛЬКО
КВАДРАТОВ, СКОЛЬКО ПОКАЗЫВАЕТ ЧИСЛО
В НАЧАЛЕ СТРОКИ




1	□ ○ ○ □ ○ □ △ □
2	△ □ ○ △ □ ○ △ □
3	□ ○ □ △ □ △ □ ○
4	○ □ □ △ □ ○ △ □

ЧТО ЗАБЫЛИ ПОЛОЖИТЬ НА ПОЛКУ?







○	□	△
□	△	○
	○	□

РАССКРАТЬ ПО НОМЕРАМ



- 1
- 2
- 3
- 4
- 5
- 6
- 7

НАРИСУЙ ПОД КАЖДОЙ КАРТИНКОЙ
СТОЛЬКО ПАЛОЧЕК, СКОЛЬКО ПРЕДМЕТОВ
ТЫ ВИДИШЬ НА НЕЙ.



- 1 = жёлтый
- 2 = красный
- 3 = зелёный
- 4 = синий
- 5 = оранжевый

